

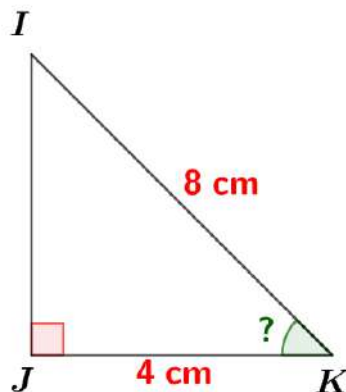
La trigonométrie

Exercice

1

Comment déterminer une mesure d'un angle avec le cosinus

1 Déterminer la mesure de l'angle \widehat{JKI} .



Solution vidéo ↓

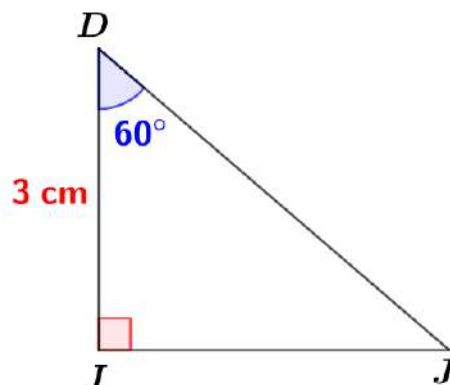


Exercice

2

Comment déterminer une mesure (longueur) d'un côté avec le cosinus

1 Déterminer la mesure de $[DJ]$.



Solution vidéo ↓



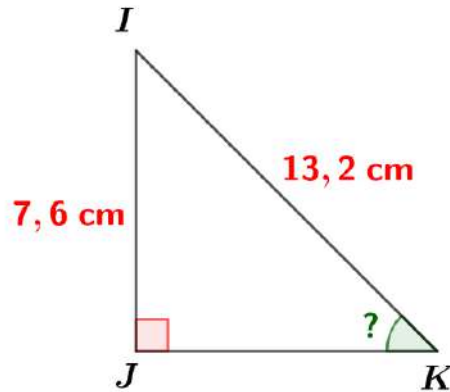
Exercice

3

Comment déterminer une mesure d'un angle avec le sinus

Solution vidéo ↓

1 Déterminer la mesure de l'angle \widehat{JKI} .



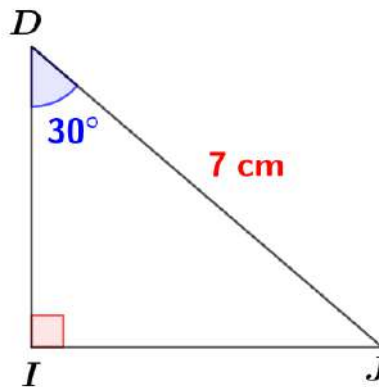
Exercice

4

Comment déterminer une mesure (longueur) d'un côté avec le sinus

Solution vidéo ↓

1 Déterminer la mesure de $[IJ]$.



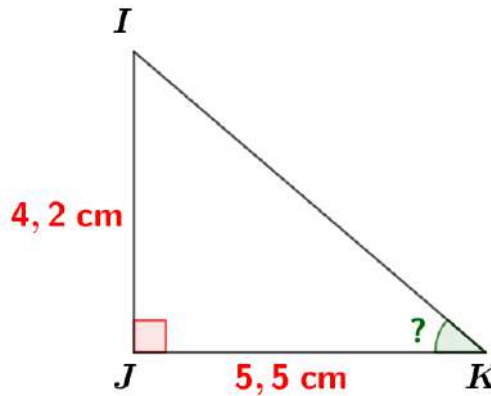
Exercice

5

Comment déterminer une mesure d'un angle avec la tangente

Solution vidéo ↓

1 Déterminer la mesure de l'angle \widehat{JKI} .



Exercice

6

Comment déterminer une mesure (longueur) d'un côté avec la tangente

Solution vidéo ↓

1 Déterminer la mesure de $[IJ]$.

